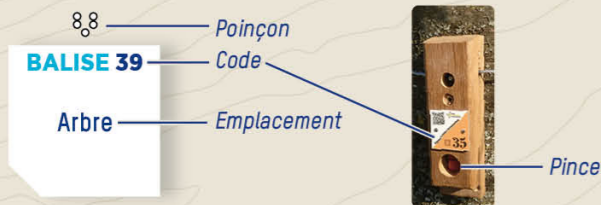


COMMENT ÇA MARCHE ?

- 1- Orienter la carte et repérer le départ.
- 2- Choisir un itinéraire pour aller du départ à la balise 1.



- 3- Utiliser la pince pour poinçonner.
- 4- Répondre à la question du dépliant.
- 5- Continuer vers les balises suivantes en respectant l'ordre.

Bonne découverte !

RECOMMANDATIONS

- Il est de la responsabilité de tout pratiquant d'estimer ses capacités à pouvoir pratiquer la course d'orientation sur cet espace.
- Soyez vigilant à la circulation dans le village. Surveillez vos enfants.
- Soyez discrets, des personnes vivent et travaillent au quotidien.
- Restez sur les itinéraires, ne coupez pas à travers les champs.
- Respectez les aires de stationnement, les propriétés privées et la réglementation.
- Ramassez vos déchets, ne laissez rien sur site.
- **SECOURS** : En cas de danger, **appelez le 112** et donnez la position exacte de l'accidenté.



L'application *Suricate* permet de signaler les problèmes que vous rencontrez lors de la pratique d'un sport de nature (erreur de balisage, besoin de sécurisation...)

INFORMATIONS

- **OFFICE DU TOURISME**
www.trieves-vercors.fr - 04 76 34 84 25
- **POUR ALLER PLUS LOIN** dans votre découverte de la course d'orientation prenez contact avec un club ou avec le CDCO 38.
- **COMITÉ DÉPARTEMENTAL DE COURSE D'ORIENTATION DE L'ISÈRE**
cdco38.fr

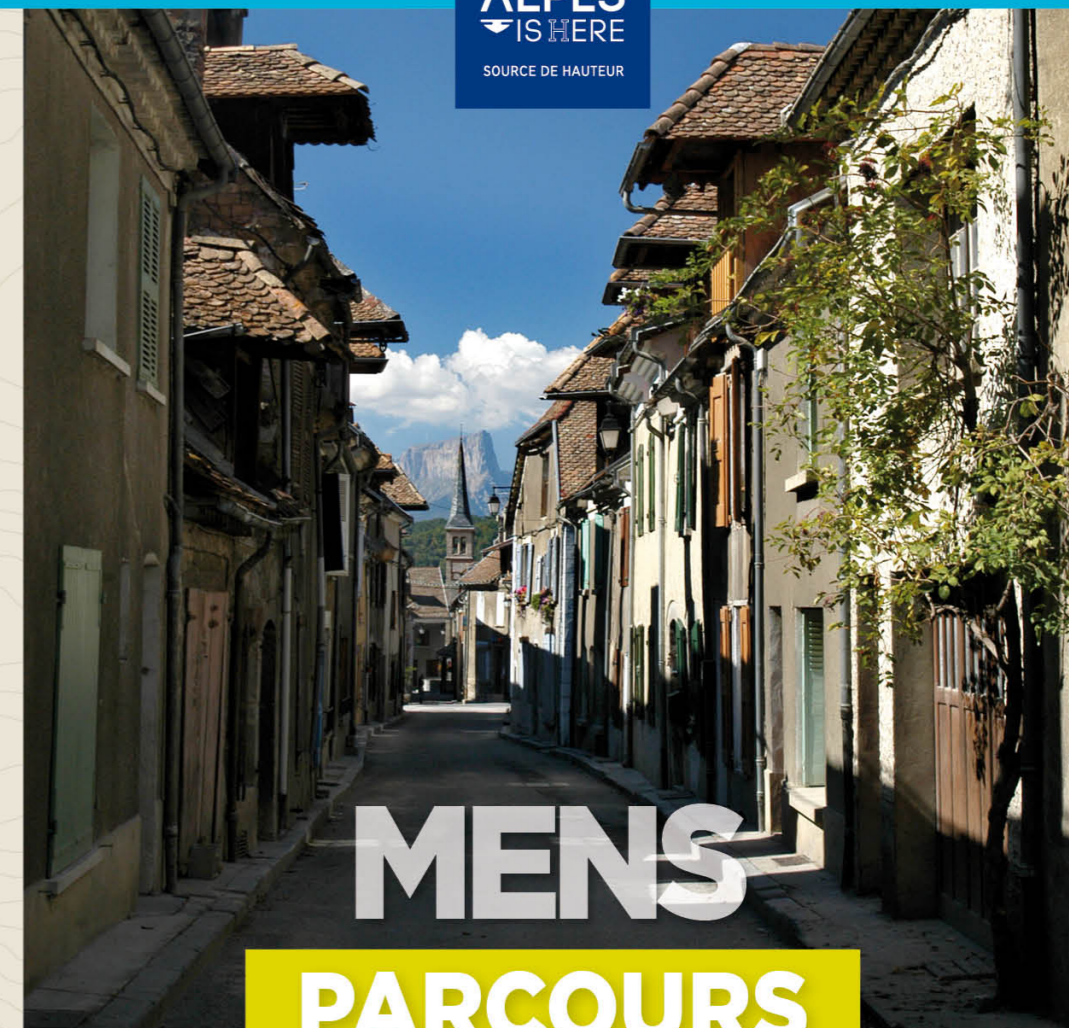


PARTICIPEZ À L'ENQUÊTE DE SATISFACTION EN SCANNANT CE QR CODE



Toutes les activités outdoor de l'Isère sont accessibles depuis ISÈRE OUTDOOR

Application mobile téléchargeable sur



MENS

PARCOURS D'ORIENTATION PATRIMOINE

À LA DÉCOUVERTE DU VILLAGE DE MENS



PARCOURS D'ORIENTATION

DIFFICULTÉ EN ORIENTATION FACILE

ACCÈS 4 SAISONS

▶ 1 KM | ▲ +10 M

⌚ +/- 30 MN | 12 BALISES

Départ : Place Paul Brachet - Mens
 ○ Balise
 🗺 Office de tourisme

Échelle : 1/3000°
 1 cm représente 30 m sur le terrain
 Dénivelé entre 2 courbes de niveau : 5 m



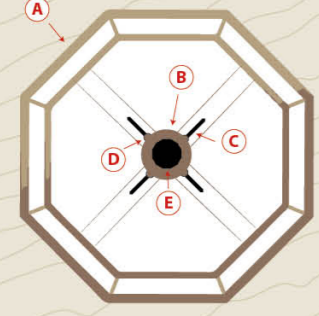
- Bâtiment
- Propriété privée
- Parking
- Route
- Chemin / sentier
- Escalier
- Mur
- Arbre isolé
- Passage couvert
- Objets particuliers
- Pelouse
- Fontaine
- Courbe de niveau
- Haie

Carte de course d'orientation 2024 / Réalisation : Théo Fleurent / La reproduction de l'ensemble des supports cartographiques est autorisée pour l'usage unique de ce parcours permanent d'orientation et à l'exclusion de tout autre usage. Cet équipement a été mis en place avec l'assistance technique de la Ligue Auvergne Rhône Alpes de course d'orientation / Crédits photos : Lilian Sabatier / Edition 2024

BALISE 38
 Angle du bâtiment

1 FONTAINES

Les trois fontaines de Mens, comme celle du Breuil devant vous, ont été construites sur le même modèle. Retrouvez les quatre éléments de structure qui les composent.



- A Fût octogonal en pierre ouvragée
- B Un motif en forme d'œuf
- C Tuyaux de bronze quatre
- D Mascarons orientés selon les quatre points cardinaux
- E Pomme de pin

BALISE 54
 Angle du bâtiment

2 RUE SAINT MARTIN

Comment se nomment les débords de toiture, formés de plusieurs rangs de tuiles-canal en encorbellement, que l'on peut retrouver sur les anciennes maisons du village ?

- A Viennoises
- B Génoises
- C Mensoises

BALISE 64
 Mur

3 ANCIEN HÔPITAL

Le nom « d'Ancien hôpital » de cette demeure ne semble pas provenir de l'installation d'un établissement dédié, au sens actuel, à la guérison des malades. Comme celui des Templiers, plusieurs « Ordres de chevalerie » ont laissé leurs marques sur l'histoire depuis le Moyen-âge. Saurez-vous retrouver les armoiries qui correspondent à chacun de ces ordres ?

- A Ordre des Templiers
- B Ordre de Saint-Sépulcre
- C Ordre des Hospitaliers
- D Ordre de Saint-Jacques-de-l'Épée



1 — 2 — 3 — 4 —

BALISE 44
 Angle du bâtiment

4 MONT AIGUILLE

L'ascension du Mont Aiguille par Antoine de Ville est qualifiée de *naissance de l'alpinisme* par beaucoup d'historiens. Il est à noter que cette même année, la civilisation européenne faisait aussi l'une des « découvertes » majeures de son histoire. Laquelle ?

- A La pomme de terre
- B Le continent américain
- C Le passage du Cap de Bonne Espérance

BALISE 80
 Arbre

5 TEMPLE

On attribue la construction de cette demeure au célèbre Duc de Lesdiguières, qui gouverna le Dauphiné pour le compte du royaume de France au 17^{ème} siècle. Que doit-on également à celui qui séjourna quelques années ici, à Mens ? (Plusieurs réponses sont possibles)

- A Le lancement de la construction du fort de la Bastille à Grenoble
- B L'aménagement du château de Vizille
- C Le premier pont en maçonnerie au dessus du Drac à Claix
- D Le fort du Saint-Eynard en Chartreuse

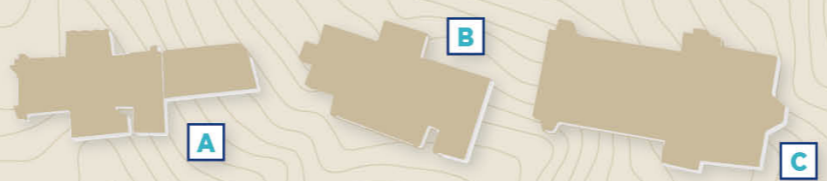
6 LA HALLE

La Halle de Mens semble avoir toujours eu une place centrale pour l'activité sociale et économique du village. Sa reconstruction en 1841 prend en considération plusieurs améliorations. Lesquelles, selon vous ? (Plusieurs réponses sont possibles)

- A Un rétrécissement pour laisser passer sur ses cotés les chars et charrettes
- B La mise en place d'un plancher
- C La construction de pilier en pierre plutôt qu'en bois
- D Le remplacement des ardoises de la toiture par des tavaillons en bois

7 ÉGLISE

D'après les informations dont vous disposez, lequel de ces plans correspond à celui de l'église de Mens ?



BALISE 68
 Mur

BALISE 62
 Angle du bâtiment

8 CAFÉ DES ARTS

Au moment de son ouverture, le café ne comptait que la salle principale (de droite). Un autre commerce était établi en lieu et place de la salle de restaurant. De quel commerce s'agissait-il ?

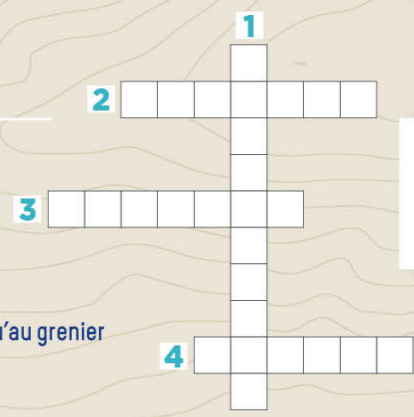
Si le commerce est ouvert, ne manquez pas d'aller découvrir ce lieu chargé d'histoire et de culture.

BALISE 46
 Angle du mur

9 RUE DU BOURG

Complétez ce jeu de mots fléchés :

- 1 Nom donné à une ouverture permettant d'accéder au grenier depuis la rue
- 2 Matériau utilisé pour tisser la toile
- 3 Nom donné aux balles de foin
- 4 Outil permettant de hisser les balles jusqu'au grenier



BALISE 71
 Angle du bâtiment

10 RÉSISTANCE

Les 22, 23 et 24 juillet 1944 marquent un tournant pour la Résistance iséroise. Que s'est-il passé lors de ces trois jours ?

- A Le débarquement allié débute en Provence.
- B Les troupes allemandes déciment le maquis du Vercors.
- C Le général de Gaulle appelle à l'offensive tous les maquisards.

BALISE 72
 Escalier

11 PLACE DE LA MAIRIE

La mairie actuelle est installée à l'emplacement du four banal construit dès le Moyen-âge. En observant bien le plan cadastral datant de 1834, saurez-vous à quel numéro correspond ces emplacements que vous avez visité lors de votre parcours ?


- A Mairie : _____
- C Eglise : _____
- D Halle : _____
- E Ancien hôpital : _____

BALISE 88
 Poteau

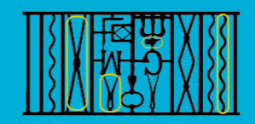
12 ARTISANAT

En observant le balcon forgé, situé rue du Puits de Brunel, saurez-vous reconnaître les quatre erreurs glissées de cette illustration ?

BALISE 57
 Angle du bâtiment



Réponses aux questions :



1-A, B, D / 2-B / 3-1-B, 2-C, 3-A, 4-D / 4-B / 5-A, B, C / 6-A, C / 7-A / 8 - un salon de coiffure / 9 - L'Engrangeou, 2=chanvre, 3=Bourras, 4=Pouille / 10-B / 11-A : 562, B : 464, C : 482, D : 405 / 12 :